

ආර්ථික විද්‍යාව  
 Economics

21 S I

පැය දෙකයි  
 இரண்டு மணித்துள்ளே  
 Two hours

**උපදෙස්:**

- සියලු ම ප්‍රශ්නවලට පිළිතුරු සපයන්න.
- උත්තර පත්‍රයේ නියමිත ස්ථානයේ සෑම විභාග අංශය ලියන්න.
- උත්තර පත්‍රයේ පිටුපස දී ඇති උපදෙස් ද සැලකිල්ලෙන් කියවා පිළිපදින්න.
- 1 සිට 50 තෙක් එක් එක් ප්‍රශ්නයට (1), (2), (3), (4), (5) යන පිළිතුරුවලින් සිව්වැනි හෝ ඉතාමත් සැලසෙන හෝ පිළිතුර නොපානෙහි, එය උත්තර පත්‍රයේ පිටුපස දැක්වෙන උපදෙස් පරිදි කතිරයක් (X) කොට දැක්වීම.

1. ආර්ථික විද්‍යාව පිළිබඳ වඩාත් සම්පූර්ණ කෙටි නිර්වචනයක් වනුයේ ආර්ථික විද්‍යාව යනු.
  - (1) තම පුරවැසියන්ට වඩාත් යහපත් තත්ත්වයක් ඇති කිරීම සඳහා සමාජයේ රැකියා අවස්ථා නිර්මාණය කළ හැක්කේ කෙසේ ද යන්න අධ්‍යයනය කිරීම ය.
  - (2) රටවල් හෝ ලිය වෙළෙඳපොළක භාණ්ඩ හා සේවා වෙළෙඳාම් කරනුයේ කෙසේ ද යන්න අධ්‍යයනය කිරීම ය.
  - (3) පරිසරයට හානියක් නොවන පරිදි භාණ්ඩ හා සේවා නිෂ්පාදනය කරනු ලබන්නේ කෙසේ ද යන්න අධ්‍යයනය කිරීම ය.
  - (4) සීමිත වූ වම්නා අතර අසීමිත සම්පත් බෙදා වෙන්කරනු ලබන්නේ කෙසේ ද යන්න අධ්‍යයනය කිරීම ය.
  - (5) අසීමිත වූ වම්නා සපුරාලීම සඳහා හිඟ සම්පත් බෙදා වෙන්කරනු ලබන්නේ කෙසේ ද යන්න අධ්‍යයනය කිරීම ය.
2. නිෂ්පාදන හැකියා පර්යන්තයන් සරල රේඛීය වනුයේ,
  - (1) සම්පත් පූර්ණ වශයෙන් සහ කාර්යක්ෂමව උපයෝජනය කරමින් පවත්නා නිසා ය.
  - (2) වැඩෙන ආවස්ථික පිරිවැය නීතිය නිසා ය.
  - (3) ආර්ථිකයේ පවත්නා ආකාරයක්ම නිසා ය.
  - (4) ආවස්ථික පිරිවැය ස්ථාවර වීම නිසා ය.
  - (5) සම්පත් සමජාතීය නොවීම නිසා ය.
3. පහත සඳහන් කවරක් නිදහස් වෙළෙඳපොළ ආර්ථිකයෙහි මූලික ලක්ෂණයක් වේ ද?
  - (1) නිෂ්පාදනය පිළිබඳ රජයේ දැඩි පාලනය
  - (2) අපනයනවලට වඩා වැඩි ආනයන
  - (3) සම්පත් පිළිබඳ පොදු අයිතිය.
  - (4) පොද්ගලික දේපල
  - (5) රජය විසින් නියමකළ මිල සහ වැටුප්
4. ශ්‍රමික විභාජනයෙන් අන්වන ප්‍රතිලාභයක් නොවන්නේ කුමක් ද?
  - (1) ශ්‍රම බලකායේ නමාගිලිත්වය ඉහළ යාම
  - (2) භාණ්ඩ හා සේවා නිෂ්පාදනය කිරීමේ මුළු පිරිවැය පහළ යාම
  - (3) ඵලදායීතාව ඉහළ යාම
  - (4) නවෝත්පාදන හඳුන්වාදීමේ හැකියාව ඉහළ යාම
  - (5) ආදායම් සමතාව ඉහළ යාම
5. සහල් මිල වැඩිවන විට අපේක්ෂා කරනුයේ
  - (1) සහල් ඉල්ලුම් කරනු ලබන ප්‍රමාණයේ වැඩි වීමකි.
  - (2) සහල් සැපයුම් කරනු ලබන ප්‍රමාණයේ අඩු වීමකි.
  - (3) සහල් ඉල්ලුම් කරනු ලබන ප්‍රමාණයේ අඩු වීමකි.
  - (4) සහල් ඉල්ලුම අඩු වීමකි.
  - (5) සහල් සැපයුම වැඩි වීමකි.

2022/2/7 17:13



6. ඇහලම් නිෂ්පාදනයේ ප්‍රධාන දෙදැවුම්කරුවන් වන්නේ දෙවිසිලි බව සලකන්න. අනෙකුත් කාරුණික නොවෙතත් එ නිසාවේ දෙවිසිලි මිල පහළ යයි නම් එහිදී අලෙවිකරු කරනුයේ
- (1) දෙවිසිලි ඉල්ලුම් ඉහළ යාමයි.
  - (2) ඇහලම් සැපයුම් ඉහළ යාමයි.
  - (3) ඇහලම් සැපයුම් පහළ යාමයි.
  - (4) ඇහලම් ඉල්ලුම් ඉහළ යාමයි.
  - (5) ඇහලම් ඉල්ලුම් පහළ යාමයි.

7. X භාණ්ඩයේ සැපයුම් ශ්‍රිතය  $Q_x = 8P$  සමීකරණයෙන් දැක්වෙන අතර, එහි P භාණ්ඩයේ මිලත්  $Q_x$  සැපයුම් කරනු ලබන ප්‍රමාණයත් පෙන්වනු ලබයි. මෙම සමීකරණයට අනුව X භාණ්ඩයේ සැපයුමෙහි මිල නම්කරන විට
- (1) 1.0 කි.
  - (2) -1.0 කි.
  - (3) 8.0 කි.
  - (4) -8.0 කි.
  - (5) 0.1 කි.

8. අලිඟුටුපේර සඳහා ඇති වෙළෙඳපොළ එකවර සිදුවීම් දෙකකට විඛුණ සා ඇහැයි සලකමු. අලිඟුටුපේර සැපයුමට බලපාන දැඩි නියතයක් වැඩිවීම ද සිදුවන රෝග වළක්වා ගැනීමට උපකාරී විය හැකි ඖෂධය ඉහළ අලිඟුටුපේරවල අඩංගු බව පර්යේෂණයක් මගින් පෙන්වා දී තිබේ. මෙම සිදුවීම් දෙක අලිඟුටුපේර වෙළෙඳපොළෙහි සම්තුලිත මිල හා සම්තුලිත ප්‍රමාණය කෙරෙහි කෙසේ බලපානු ලබන්නේ ද?

සම්තුලිත මිල	සම්තුලිත ප්‍රමාණය
(1) වැඩි වේ	අඩු වේ
(2) වැඩි වේ	වැඩි වේ
(3) අඩු වේ	අඩු වේ
(4) වැඩි වේ	අවිනිශ්චිත වේ
(5) අඩු වේ	අවිනිශ්චිත වේ

9. X භාණ්ඩය සඳහා ඇති වෙළෙඳපොළ දැනට සම්තුලිතයෙහි පවති යැයි සලකන්න. X භාණ්ඩයේ සම්තුලිත මිල සහ සම්තුලිත ප්‍රමාණය යන දෙකම අඩු කිරීමට හේතු නොවන්නේ පහත සඳහන් කරව සිදුවීමක් ද?

- (1) X භාණ්ඩය සඳහා අනුපූරක භාණ්ඩයක් වන Y භාණ්ඩයේ මිල ඉහළ යාම
- (2) X භාණ්ඩය සඳහා ආදේශක භාණ්ඩයක් වන Y භාණ්ඩයේ මිල පහළ යාම
- (3) X භාණ්ඩය සාමාන්‍ය භාණ්ඩයක් වීම සහ පාරිභෝගික ආදායම් පහළ යාම
- (4) X භාණ්ඩය බාල භාණ්ඩයක් වීම සහ පාරිභෝගික ආදායම් ඉහළ යාම
- (5) X භාණ්ඩය සඳහා ඇති වෙළෙඳපොළෙහි හැනුම්කරුවන් සංඛ්‍යාව ඉහළ යාම

10. එක්තරා කුඩා නගරයක පලාකොළ සඳහා ඇති දෛනික වෙළෙඳපොළ ඉල්ලුම හා සැපයුම් පහත සඳහන් වගුවේ පෙන්වනු ලබයි.

කිලෝ ග්‍රෑම්යක මිල (රු.)	දෛනික ඉල්ලුම් ප්‍රමාණය (කි.ග්‍රෑ.)	දෛනික සැපයුම් ප්‍රමාණය (කි.ග්‍රෑ.)
60	220	310
55	240	300
50	260	290
45	280	280
40	300	270

ප්‍රවාහන වියදම් ඉහළ යාම නිසා පලාකොළ සැපයුම සෑම මිලකදී ම කිලෝ ග්‍රෑම් 60කින් අඩු වේ යැයි සලකන්න. පලාකොළ සඳහා අලුත් සම්තුලිත මිල කොපමණ ද?

- (1) රු. 60
- (2) රු. 55
- (3) රු. 50
- (4) රු. 45
- (5) රු. 40

11. භාණ්ඩයක මිල රු. 40 සිට රු. 50 දක්වා ඉහළයාම, එම භාණ්ඩය ඉල්ලුම් කරනු ලබන ප්‍රමාණය ඒකක 1 600 සිට ඒකක 1 400 දක්වා අඩු කිරීමට හේතු වේ යැයි සලකන්න. ඉල්ලුම් වක්‍රයේ මෙම පරාසය තුළ, ඉල්ලුමේ මිල නම්කරන විට
- (1) - 6.0 කි.
  - (2) - 3.0 කි.
  - (3) - 0.7 කි.
  - (4) - 0.6 කි.
  - (5) - 0.3 කි.

12. කිසියම් භාණ්ඩයක් සඳහා නිදහස් වෙළෙඳපොළ සම්තුලිත මිලට වඩා ඉහළ, සහතික කළ අවම මිලක් හඳුන්වාදීමේ දී රජයට ඇවීමට සිදුවන පිරිවැය වඩාත් අධික වනුයේ,

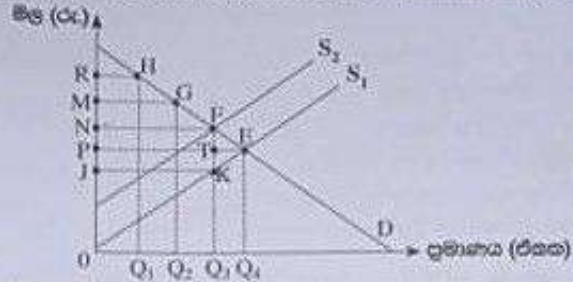
- (1) ඉල්ලුමක් සැපයුමක් යන දෙකම මිල නම්කර වේ නම් ය.
- (2) ඉල්ලුමක් සැපයුමක් යන දෙකම මිල අනම්කර වේ නම් ය. ✓
- (3) ඉල්ලුම් මිල නම්කර වී සැපයුම් මිල අනම්කර වේ නම් ය.
- (4) ඉල්ලුම් මිල අනම්කර වී සැපයුම් මිල නම්කර වේ නම් ය.
- (5) ඉල්ලුමක් සැපයුමක් යන දෙකම ඒකීය මිල නම්කරන විට යුක්ත වේ නම් ය.

2022/2/7 17:17

ඉහළින් පිටුව බලන්න



13. සමාන දැක්වෙන රූපයක X හාණියේ සඳහා ඇති වෙළෙඳපොළ නිරූපණය කරයි. කර්මාන්ත වෙළෙඳපොළ සමතුලිතය E ලක්ෂ්‍යය වේ. රජය විසින් X හාණියේ නිෂ්පාදනය මත ඒකක බද්දක් සහවනු ලැබේ යැයි සලකන්න.



බද්ද නිසා රජය උපයාගත් ආයතනය සහ අනිමි වූ ප්‍රමාණයන් ප්‍රශ්නයේ කරපි ප්‍රදේශයකින් පෙන්වුම් කෙරේ ද?

බදු ආයතනය	අනිමි වූ ප්‍රමාණය
(1) P N F T	F T E
(2) O N F Q <sub>3</sub>	K T E
(3) J P T K	K F E
(4) J N F K	K F E
(5) J N F K	K T E

14. කර්මාන්ත වෙළෙඳපොළක එක්තරා හාණියක සමතුලිත මිල ඒකකයක් රු.50ක් බව සලකන්න. දැන් මෙම වෙළෙඳපොළට රජය මැදිහත්වී ඒකකයක් රු.60ක් ලෙස අවම මිලක් සහවනු ලබයි. වෙළෙඳපොළෙහි එක හැසුම්කරුවකුගේ ඉල්ලුම් ශ්‍රිතය  $Q_d = 240 - 3P$  නම් අවම මිල, එම හැසුම්කරුවාගේ පාරිභෝගික අතිරික්තයට කරනු ලබන බලපෑම කුමක් ද?

- (1) රු. 600කින් වැඩි වේ.
- (2) රු. 600කින් අඩු වේ.
- (3) රු. 750කින් වැඩි වේ.
- (4) රු. 750කින් අඩු වේ.
- (5) රු. 1350කින් අඩු වේ.

15. කෙටි කාලයේ දී නිෂ්පාදන ආයතනයක් විසින් විවිධ නිමැවුම් මට්ටම් සඳහා දරනු ලබන මුළු පිරිවැය පහත දැක්වෙන වගුව පෙන්වුම් කරයි.

නිමැවුම් මට්ටම	මුළු පිරිවැය (රු.)	නිමැවුම් මට්ටම	මුළු පිරිවැය (රු.)
0	100	4	160
1	120	5	190
2	130	6	238
3	138	7	296

මෙම තොරතුරුවලට අනුව නිමැවුම් ඒකක 6ක් නිෂ්පාදනය කිරීමේ දී සාමාන්‍ය විචල්‍ය පිරිවැය කොපමණ වේ ද?

- (1) රු. 23
- (2) රු. 28
- (3) රු. 35
- (4) රු. 36
- (5) රු. 48

16. කෙටි කාලයේ දී පූර්ණ කර්මාන්ත ආයතනයක්, එම ආයතනයේ ලාභ උපරිම කෙරෙන නිමැවුම් ප්‍රමාණය ලෙස ඒකක 1000ක් නිපදවන විට වෙළෙඳපොළ මිල ඒකකයක් රු.120ක් ද, ඒකකයක විචල්‍ය පිරිවැය රු.100ක් ද, ඒකකයක ස්ථාවර පිරිවැය රු.40ක් ද වේ. අනෙකුත් කරුණු නොවෙනස්ව පවතී නම්, මෙම ආයතනයේ කෙටිකාලීන හැසිරීම විය යුත්තේ

- (1) පිරිවැය අඩුකර හැනීම සඳහා නිමැවුම් අඩු කිරීම ය.
- (2) රු. 140කට වඩා වැඩි ප්‍රමාණයකින් ඒකකයක මිල වැඩි කිරීම ය.
- (3) ආයතනය කෙටි කාලයේ නිමැවුම් කරන වැඩිත් නිෂ්පාදනය අඩුකිරීම පවත්වාගෙන යාම ය. ✓
- (4) සාමාන්‍ය ස්ථාවර පිරිවැය අඩු කර හැනීම සඳහා නිමැවුම් වැඩි කිරීම ය.
- (5) සාමාන්‍ය මුළු පිරිවැය වෙළෙඳපොළ මිලට වඩා ඉහළින් පවත්වා වැඩිත් වහාම වසා දැමීම ය.

17. කෙටි කාලයේ දී පූර්ණ කර්මාන්ත ආයතනයක් සඳහා පහත සඳහන් කරවත් නිවැරදි වේ ද?

- (1) ආයතනය සැමවිට ම ධනාත්මක ආර්ථික ලාභ උපයයි.
- (2) ආයතනය සැමවිට ම ප්‍රාමාණික ලාභ උපයයි.
- (3) සාමාන්‍ය මුළු පිරිවැයට වඩා මිල පහළ වැටෙන විට ආයතනය වසා දමයි.
- (4) මිල ආන්තික අසහාරයට පමා වන ලක්ෂ්‍යයෙහි නිෂ්පාදනය කරමින් ආයතනය ලාභ උපරිම කරයි. ✓
- (5) ආයතනය සාමාන්‍යමය හෝ ධනාත්මක හෝ ප්‍රාමාණික හෝ ලාභ ඉපයීමට පුළුවන.



18. පහත දැක්වෙන ශ්‍රී ලංකාවේ කර්මාන්ත අංශයේ වසන් ජ්‍යෙෂ්ඨතාවයට අර්ථනාමයක් විය හැක්කේ කවරක් ද?  
 (1) පවර නිෂ්පාදනය (2) ව්‍යාපාරික විකාශනය (3) පිළිවිලි  
 (4) ප්‍රවර්ධන පත්‍ර (5) ව්‍යාපාරික කාර්යය
19. පහත සඳහන් දෑ අතුරින් ආර්ථික පසුබෑමීමක (ප්‍රතිරෝධකයක) ලක්ෂණයක් නොවනුයේ කුමක් ද?  
 (1) ආයෝජනය සහ සේවා නියුක්තිය සහභාගී වීම ය.  
 (2) සංද්‍රව්‍ය සඳහා ඉල්ලුම වැඩි වීම නිසා සංද්‍රව්‍ය මිල ඉහළ යාම ය.  
 (3) ආයෝජනයන්ගේ විවේචනාත්මක බව වැඩි වීම ය.  
 (4) භාණ්ඩ හා සේවා සඳහා ඉල්ලුම පහත වැටීම ය.  
 (5) කර්මාන්තවල අධිවිකේත නිෂ්පාදන යටිතල ව්‍යුහය වැඩි වීම ය.
20. ඩී කොටසෙන් කම ඩී කොටස වූ 10 000කට සහල් මෝල්කරුවකුට අලෙවි කරන අතර, සහල් මෝල්කරුවා ඒවා සහල් පිටි මෝල්කරුවකුට වූ 12 000කට අලෙවි කරයි. පිටි මෝල්කරුවා එම පිටි කුඩුල්ල නිෂ්පාදනයකට වූ 15 000කට අලෙවි කරන අතර, කුඩුල්ල නිෂ්පාදකයා එම කුඩුල්ල වූ 20 000කට පරිභෝජකයන්ට අලෙවි කරයි. මෙම නිෂ්පාදන ක්‍රියාවලියේ දී සහල් මෝල්කරුවා හා කුඩුල්ල නිෂ්පාදකයා යන දෙදෙනා විසින් පිහිටවනු ලබන මුළු වටකු කළ අයවැය කොපමණ ද?  
 (1) වූ 10 000 (2) වූ 7 000 (3) වූ 5 000 (4) වූ 3 000 (5) වූ 2 000
21. ආදායම් ප්‍රවණතාව මත පදනම්ව දළ ජාතික ආදායම ආදායමෙන් කුඩා බවට පත්වීමේ දී ආදායම නොමෙරවනුයේ පහත සඳහන් දෑ අතුරින් කවරක් ද?  
 (1) සේවක ආදායම්  
 (2) මිත්‍ර ආදායම  
 (3) ස්වාභාවික පරිභෝජනය  
 (4) නිෂ්පාදනය සහ වෙනත් මද අඩු කළා එම සහනයන්  
 (5) සේවක අර්ථසාධක අරමුදලට මෙහෙයවීමේ දායකත්ව මුදල ය.
22. 2019 වර්ෂයේදී, සමස්ත වෙළෙඳපොළ මිල යටතේ ශ්‍රී ලංකාවේ දළ දේශීය නිෂ්පාදිතය ආමේරිකානු ඩොලර්  
 (1) බිලියන 79කි. (2) බිලියන 80කි. (3) බිලියන 83කි.  
 (4) බිලියන 84කි. (5) බිලියන 88කි.
23. පහත සඳහන් කුණක අතර සම්බන්ධතා අතුරින් නිවැරදි සම්බන්ධතාව වන්නේ කවරක් ද?  
 (1) ආයෝජන කුණකය > බදු කුණකය = කුලීන අයවැය කුණකය  
 (2) බදු කුණකය = ආයෝජන කුණකය < කුලීන අයවැය කුණකය  
 (3) බදු කුණකය > ආයෝජන කුණකය > කුලීන අයවැය කුණකය  
 (4) බදු කුණකය > ආයෝජන කුණකය = කුලීන අයවැය කුණකය  
 (5) ආයෝජන කුණකය > බදු කුණකය > කුලීන අයවැය කුණකය
24. රාජ්‍ය ආයතන නොමැති සංචිත ආර්ථිකයක සමාහාර ඉතුරුම් මුත්‍රය (S) = -100 + 0.25 Y සහ ආයෝජනය (I) වැඩිපුර මිලියන 800ක් ද වේ යැයි සලකන්න. මෙම ආර්ථිකයේ සමතුලිත ජාතික ආදායම් මට්ටම කොපමණ ද?  
 (1) වැඩිපුර මිලියන 1 200 (2) වැඩිපුර මිලියන 2 800  
 (3) වැඩිපුර මිලියන 3 200 (4) වැඩිපුර මිලියන 3 600  
 (5) වැඩිපුර මිලියන 3 900
25. පක්‍රීය ආදායම් ප්‍රවණතාවේ කාන්දුවීමකට උදාහරණයක් වන්නේ පහත සඳහන් කවරක් ද?  
 (1) ආයෝජන (2) සංක්‍රාම (3) ආනායන  
 (4) ආණ්ඩුවේ මිල දී ගැනීම (5) අපනයන
26. යම් දෙන ලද අවස්ථාවක සිසිමම් රථය පොදු මිල මට්ටම තුන් කුණකයින් වැඩි මුදල යැයි සලකන්න. එම කාලය තුළ එක්තරා කුටුම්භයක ආදායම වූ 40 000 සිට වූ 80 000 දක්වා වැඩි විය. මෙම කුටුම්භයේ ජාතික හා මූලික ආදායම කුමක් වී ද?

	ජාතික ආදායම	මූලික ආදායම
(1)	වැඩි විය	අඩු විය
(2)	අඩු විය	අඩු විය
(3)	වැඩි විය	වැඩි විය
(4)	අඩු විය	වැඩි විය
(5)	වැඩි විය	වෙනස් නොවීය

2022/2/7 17:15



27. කුලීන වර්ධන වර්තමාන වශයෙන් මුදල් ගණ වැඩියෙන් ඉල්ලුම් කරනුයේ,

- (1) පොදු මිල මට්ටම ඉහළ නැගීම වීම ය.
- (2) නාභික සාධක ආදායම පහළ වැටීම වීම ය.
- (3) නාභික සාධක ආදායම ඉහළ නැගීම වීම ය.
- (4) නාභික වෙළඳ අනුපාතිකය පහළ වැටීම වීම ය.
- (5) පිළිතපත් මිල පහළ වැටීම වීම ය.

28. පහත සඳහන් දෑ අතුරින් වඩාත් දුබලීල වනුයේ කවරක් ද?

- (1) ස්ථාවර හැත්පසු
- (2) ආණ්ඩුවේ පුරපුරුපත්
- (3) ඉල්ලුම් හැත්පසු
- (4) පුර්ව දේපල
- (5) සමාගම්වල කොටස්

29. නගරදෙසුකරුවන් වාණිජ බැංකුවක රු. මිලියන 400ක් තැන්පත් කරන සිටින බැංකුව එම තැන්පතු වටිනාකම රු. මිලියන 80ක වාර්ෂික සංචිත සංචිතයක් සහතිකයක් ලෙසින් සලකන්න. මෙහිදී අනෙකුත් කරුණු නොවෙතත් එ සමඟි නම්, වාණිජ බැංකුව සතු වටිනාකම අධි සංචිත සමඟි ද? තැන්පතු කුණකට වටිනාත්වය කොපමණ ද?

අධි සංචිත (රු. මිලියන)	තැන්පතු ගුණකය
(1) 400	0.02
(2) 400	0.2
(3) 320	20.0
(4) 320	5.0
(5) 320	0.2

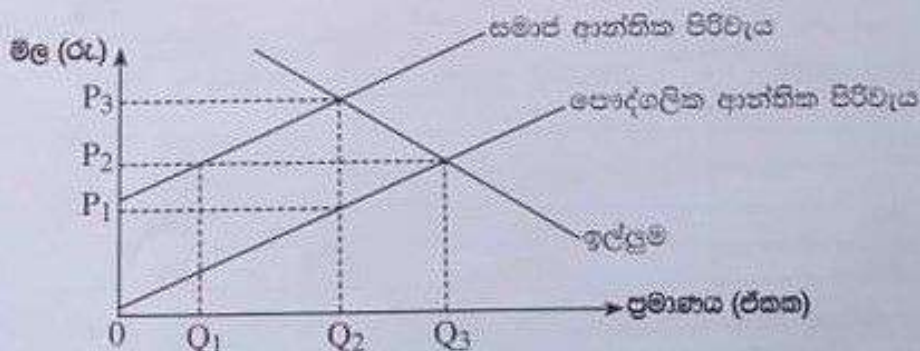
30. පහත සඳහන් කවරක ප්‍රතිඵලයක් වශයෙන් මුදල් සැලසුම් වැඩි වන්නේ ද?

- (1) නිෂ්පාදන හැත්පසු පහසුකම් අනුපාතිකයේ (SDFR) ඉහළ නැගීමක්
- (2) මහ බැංකුව විසින් වාණිජ බැංකුවලට පිළිතපත් අලෙවි කිරීමක්
- (3) වර්ධන අනුපාතිකය ඉහළ නැගීමක්
- (4) මහ බැංකුවේ විදේශ වත්කම් පහළ වැටීමක්
- (5) වාර්ෂික සංචිත අනුපාතය පහළ වැටීමක්

31. පොදු සම්පත්වල ප්‍රධාන ලක්ෂණ වනුයේ,

- (1) පරිභෝජනයේ තරගකාරීත්වය හා බැහැර කළ නොහැකි වීම ය.
- (2) පරිභෝජනයේ තරගකාරීත්වයක් නොමැතිකම හා බැහැර කළ හැකි වීම ය.
- (3) පරිභෝජනයේ තරගකාරීත්වයක් නොමැතිකම හා බැහැර කළ නොහැකි වීම ය.
- (4) නියාමනය කළ හැකි වීම හා බැහැර කළ හැකි වීම ය.
- (5) පරිභෝජනයේ තරගකාරීත්වය හා බැහැර කළ හැකි වීම ය.

32. පොදුසලක සහ සමාජ ආන්තික පිරිවැය වක්‍රයන්, වෙළෙඳපොළ ඉල්ලුම් වක්‍රයන් පහත රූපසටහන පෙන්වුම් කරයි.



මෙම වෙළෙඳපොළ නියාමනයකින් තොර තිදහස් වෙළෙඳපොළක් වේ නම්, එහි

- (1) නිමැවුම් මට්ටම සමාජය වශයෙන් ප්‍රශස්ත වන නමුදු මිල ඉතා අඩු අගයක් ගනියි.
- (2) නිමැවුම් මට්ටම සමාජය වශයෙන් ප්‍රශස්ත මට්ටමට වඩා අඩු නමුදු මිල ඉතා අඩු අගයක් ගනියි.
- (3) සම්පත් බෙදා වෙන් කිරීම ඉතා කාර්යක්ෂම වනු ඇත.
- (4) අවශ්‍ය ප්‍රමාණයට වඩා වැඩි ප්‍රමාණයක් නිෂ්පාදනය කරනු ඇත.
- (5) අවශ්‍ය ප්‍රමාණයට වඩා අඩු ප්‍රමාණයක් නිෂ්පාදනය කරනු ඇත.

2022/2/7 17:15

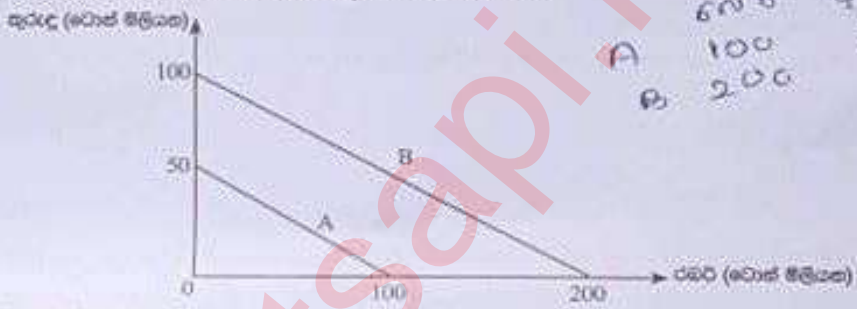


33. ආර්ථික දේශීයතාවේ ප්‍රාග්ධන වෙනස යනු.
- (1) ආණ්ඩුවේ පුළුල් වියදම් සහ පුළුල් පුනරාවර්තන වියදම් අතර වෙනස ය.
  - (2) ආණ්ඩුවේ ආර්ථික නිෂ්පාදන සහ ණය වෙන්වා වෙන්වීම් අතර වෙනස ය.
  - (3) පුළුල් අයහැරය සහ ණය සඳහා පොලී වෙන්වීම් ඇතුළත් පුළුල් වියදම් අතර වෙනස ය.
  - (4) දිගුකාලීන ඇතුළත් පුළුල් අයහැරය සහ ණය සඳහා පොලී වෙන්වීම් ඇතුළත් පුළුල් ප්‍රාග්ධන වියදම් අතර වෙනස ය.
  - (5) දිගුකාලීන ඇතුළත් පුළුල් අයහැරය සහ ණය සඳහා පොලී වෙන්වීම් ඇතුළත් පුළුල් පුනරාවර්තන වියදම් අතර වෙනස ය.

34. 2019 වර්ෂයේ දී ශ්‍රී ලංකා මහ බැංකුව රජයේ ණාචිය වූ පුළුල් දේශීය හා විදේශීය ණය ප්‍රමාණයන් දළ දේශීය නිෂ්පාදනයේ ප්‍රතිශතයක් වශයෙන් පිළිවෙලින්
- (1) 44.1% ක් සහ 42.6% ක් විය.
  - (2) 48.2% ක් සහ 40.3% ක් විය.
  - (3) 35.4% ක් සහ 46.6% ක් විය.
  - (4) 42.7% ක් සහ 38.4% ක් විය.
  - (5) 42.2% ක් සහ 30.0% ක් විය.

35. පහත සඳහන් දෑ අතුරින් සැලසුම් පාර්ශ්වයේ ප්‍රතිපත්තියක් පලය සැලකිය හැක්කේ කවරක් ද?
- (1) ආණ්ඩුවේ ආර්ථික නිෂ්පාදන අඩු කිරීම
  - (2) ආයෝජනය දිරිමත් කිරීමේ ව්‍යාපාර සඳහා ආයෝජන බදු සහන ලබා දීම
  - (3) ආනයන හාණිව මත පීරු බදු පැනවීම
  - (4) පොද්ගලික නිමිතම සහිත ව්‍යාපාර රාජ්‍ය අංශය වෙත පැවරීම
  - (5) සමාහාර වියදම් ඉහළ යාමක් ඇතිවන අන්දමින් ආණ්ඩුවේ වියදම් ඉහළ නැංවීම

36. A හා B රටවල් දෙකට දොළ නිෂ්පාදන හැකියා වනු පහත රූපසටහන පෙන්වුම් කරයි. A රටට රබර් වෙන් මිලියන 100ක් හෝ කුරුඳු වෙන් මිලියන 50ක් හෝ නිෂ්පාදනය කළ හැකි ය. B රටට රබර් වෙන් මිලියන 200ක් හෝ කුරුඳු වෙන් මිලියන 100ක් හෝ නිෂ්පාදනය කළ හැකි ය.



A 60% 96%  
 B 100 50  
 200 100

- සාපේක්ෂ වාසි න්‍යායට අනුව
- (1) විශේෂ ප්‍රාග්ධනයක් කිරීමෙන් රටවල් දෙකට ම ප්‍රතිලාභ ලැබිය හැකි වේ.
  - (2) කුරුඳු නිෂ්පාදනයේ දී A රටට වඩා B රටෙහි ආවේණික පිරිවැය වැඩි වේ.
  - (3) කුරුඳු නිෂ්පාදනයේ දී B රටට වඩා A රටෙහි ආවේණික පිරිවැය වැඩි වේ.
  - (4) B රට A රටට කුරුඳු අපනයනය කරයි.
  - (5) A රට සහ B රට අතර වෙළෙඳාමක් සිදුවිය නොහැකි ය.

37. ශ්‍රී ලංකාවේ ආනයන සංයුතියේ වර්තමාන තත්ත්වය නිරූපදිම පෙන්වුම් කෙරෙහුයේ පහත සඳහන් කවර වර්ණයෙහි ද?

	පාරිභෝගික භාණ්ඩ	අපනයම්දී භාණ්ඩ	ආයෝජන භාණ්ඩ
(1)	20%	57%	23%
(2)	22%	60%	18%
(3)	24%	45%	31%
(4)	25%	51%	24%
(5)	28%	49%	23%

38. පහත සඳහන් වගුව සිසියම් රටක සය අවුරුදු කාල පරිච්ඡේදයක් සඳහා වාර්තා වූ අපනයන මිල දර්ශකය සහ ආනයන මිල දර්ශකය පෙන්වුම් කරයි.

අවුරුදු	අපනයන මිල දර්ශකය	ආනයන මිල දර්ශකය	අවුරුදු	අපනයන මිල දර්ශකය	ආනයන මිල දර්ශකය
1	100	100	4	116	120
2	105	108	5	129	129
3	112	110	6	150	130

- පූර්ම වර්ෂයට සාපේක්ෂව වෙළෙඳ අනුපාතය වඩා වැඩිදායක වූයේ කවර වර්ෂයේදී ද?
- (1) 2වන වර්ෂය
  - (2) 3වන වර්ෂය
  - (3) 4වන වර්ෂය
  - (4) 5වන වර්ෂය
  - (5) 6වන වර්ෂය

2022/2/7 17:15



39. ශ්‍රී ලාංකීය ආයෝජන යෙදුම් විසින් රජයේ නිෂ්පාදන සමාජයේ වෙනුවට පිළියන 10ක් වටිනා කොටස් මිල දී ගනු ලැබුවේ වැඩි වලකන්න. මෙම ගනුදෙනුව දැක්වූ සටහන් මූලධර්මයට අනුව ශ්‍රී ලාංකීයේ ගෙවුම් ශේෂයේ වාර්තා සටහනේ කොටස් ද?

සට	බැර
(1) ප්‍රාග්ධන ගිණුම	ප්‍රාග්ධන ආදායම් ගිණුම
(2) වෙනත් ආයෝජන ගිණුම	කළම ආයෝජන ගිණුම
(3) කළම ආයෝජන ගිණුම	වෙනත් ආයෝජන ගිණුම
(4) මූල්‍ය වෘත්තමාන ගිණුම	සාජ් ආයෝජන ගිණුම
(5) ප්‍රාග්ධන ගිණුම	කළම ආයෝජන ගිණුම

40. කිසියම් රටක ගෙවුම් ශේෂ ලේඛනයකින් ගෝරාගනු ලැබූ දත්ත කිහිපයක් පහත වගුවේ දැක්වේ.

අගිතමය	රුපියල් බිලියන
අපනයන (හාණිව)	600
ආනයන (හාණිව)	800
සේවා (ශුද්ධ)	30
ප්‍රාග්ධන ආදායම් (ශුද්ධ)	-80
ද්විතීයික ආදායම් (ශුද්ධ)	150
ප්‍රාග්ධන ගිණුම (ශුද්ධ)	60

වගුවේ දක්වා ඇති තොරතුරුවලට අනුව, මෙම රටේ ගෙවුම් ශේෂ තත්ත්වය පිළිබඳව පහත සඳහන් කවර ප්‍රකාශයක් නිවැරදි වේ ද?

- (1) රුපියල් බිලියන 180ක වෙළෙඳ ශේෂ හිඟයක් පවතී.
- (2) රුපියල් බිලියන 140ක ප්‍රාග්ධන හා මූල්‍ය ගිණුම අතිරික්තයක් පවතී.
- (3) රුපියල් බිලියන 100ක අතිරික්තයක් ජංගම ගිණුමෙහි පවතී.
- (4) රුපියල් බිලියන 40ක හිඟයක් මූල්‍ය ගිණුමෙහි පවතී.
- (5) රුපියල් බිලියන 40ක අතිරික්තයක් මූල්‍ය ගිණුමෙහි පවතී.

41. මාර්ලේ-ලරින්ට් කොන්දේසියට අනුව, විනිමය අනුපාතිකයේ ක්ෂයවීමකින් පසු ගෙවුම් ශේෂයේ ජංගම ගිණුම වැඩි දියුණු විය හැක්කේ පහත සඳහන් කවර තත්ත්වයක් යටතේ ද?

- (1) ආනයන මිල නම්‍යතාව = -0.6 සහ අපනයන මිල නම්‍යතාව = -0.4
- (2) ආනයන මිල නම්‍යතාව = -0.8 සහ අපනයන මිල නම්‍යතාව = -0.7
- (3) ආනයන මිල නම්‍යතාව = -0.3 සහ අපනයන මිල නම්‍යතාව = -0.5
- (4) ආනයන මිල නම්‍යතාව = -0.4 සහ අපනයන මිල නම්‍යතාව = -0.2
- (5) ආනයන මිල නම්‍යතාව = -0.6 සහ අපනයන මිල නම්‍යතාව = -0.3

42. සාවෙන (නම්‍ය) විනිමය අනුපාතික ක්‍රමයක් යටතේ,

- (1) ගෙවුම් ශේෂය සැමවිට ම අතිරික්තයක් වේ.
- (2) ගෙවුම් ශේෂය සැමවිට ම හිඟයක් වේ.
- (3) ආර්ථිකය මුළුමනින් ම බාහිර බලපෑම්වලින් ආරක්ෂිත වේ.
- (4) විදේශ විනිමය සඳහා ඇති ඉල්ලුම හා සැපයුම සමාන කිරීමට විනිමය අනුපාතිකය හැඩගැසිය යුතු වේ.
- (5) විනිමය අනුපාතිකය තීරණය වීම කෙරෙහි බලපෑම් කිරීමට රජය මැදිහත් වේ.

43. වෙනත් ආර්ථික වෘද්ධි අනුපාතික අත්කර ගැනීම සඳහා දායක විය හැක්කේ පහත සඳහන් කවරකට ද?

- (1) වඩාත් සිඝ්‍රයෙන් ස්වභාවික සම්පත් පරිභෝජනය කිරීම
- (2) ආරක්ෂණවාදී වෙළෙඳ ප්‍රතිපත්ති
- (3) පර්යේෂණ හා සංවර්ධනය සඳහා රජයේ අරමුදල් වැඩි කිරීම ✓
- (4) පාරිභෝගික සහනාධාර ඉහළ නැංවීම
- (5) කුටුම්භ සහ ආයතන මත ඉහළ බදු පැනවීම

44. මානව සංවර්ධන දර්ශකය තුළට හසුකොට ගනු ලැබ ඇති ප්‍රධාන සමාජ ආර්ථික පැතිකඩවල් වනුයේ,

- (1) දීර්ඝ සහ නිරෝගී ජීවිතයක්, අධ්‍යාපනය සහ යහපත් ජීවන මට්ටමක් ය. ✓
- (2) ආයු කාලය, වැඩිහිටි සාක්ෂරතාව සහ ප්‍රති ශීර්ෂ ආදායම් ය.
- (3) පරිගණක සාක්ෂරතාව, සේවා නියුක්ති අනුපාතිකය සහ දැරියකු මට්ටම ය.
- (4) කැලඹි පරිභෝජනය, ආදායම් අසමානතාව සහ මානව සම්පත් සංවර්ධනය ය.
- (5) ස්ත්‍රී පුරුෂ සාමාන්‍යත්වය, පරිගණක සාක්ෂරතාව සහ ආහාර සුරක්ෂිතතාව ය.

2022/2/7 17:15



45. 2010 සහ 2020 සහ වර්ෂවල දී සිසියම් රටක ආදායම් ලක්ෂණයන්ගේ ආදායම් සංඛ්‍යා, පාලනය අනුව පහත විග්‍රහණ දැක්වේ.

වර්ෂය	1වන පංචමය	2වන පංචමය	3වන පංචමය	4වන පංචමය	5වන පංචමය
2010	5%	10%	15%	25%	45%
2020	4%	8%	12%	26%	50%

- මෙම විග්‍රහණ අනුව නිගමනය කළ නොහැක්කේ හෝ වූ දහ වරින් වැඩි
- (1) රටේ සමහර් වෙනදා වෙනස්වීමේ දියුණුවක් හටගෙන ඇති බව ය.
  - (2) ආදායම් වෙනස්වීමේ වෙනස්වීමක් ඇති බව ය.
  - (3) ධනය වෙනස්වීමේ වෙනස්වීමක් ඇති බව ය.
  - (4) අඩු ආදායම් ලක්ෂණයන්ගේ ආර්ථික තත්ත්වය උසස් වී ඇති බව ය.
  - (5) අඩු ආදායම් ලක්ෂණයන් වලදායීමට පහසු වැඩි ඇති බව ය.

46. වදන් සැකසුම් (word processing) ක්ෂේත්‍රය පරිගණක ආධිපත්‍යයට නතු වීමත් සමඟ පරිගණක නිලධාරීන්ගේ නොමැති ඇතුළු යතුරුලියන ක්‍රියාකාරකවලට සවිච්ඡිද්‍යවීමේ ධනීය අතිරි විය. මෙය පහත සඳහන් කවර ක්‍රියාකාරකවලට උදාහරණයක් වේ ද?

- (1) සාර්ථක සේවා විද්‍යාත්මක
- (2) සැකසුණු සේවා විද්‍යාත්මක
- (3) ව්‍යුහමය සේවා විද්‍යාත්මක
- (4) වාර්ෂික සේවා විද්‍යාත්මක
- (5) වක්‍රීය සේවා විද්‍යාත්මක

47. නිරසා සංවර්ධනය යටතේ ආවරණය වෙමින් ප්‍රධාන ක්ෂේත්‍ර තුන වනුයේ,

- (1) පරිසරය, ආර්ථිකය සහ සමාජයයි.
- (2) පරිසරය, ආර්ථිකය සහ සාධාරණත්වයයි.
- (3) පරිසරය, සුභසාධන සහ සමාජයයි.
- (4) පරිසරය, සාමාජික සහ දරිද්‍රතාවයයි.
- (5) පරිසරය, නිවැරදිකාරිත්වය සහ සමාජයයි.

48. පහත දැක්වෙන විග්‍රහණ සැලකිලිමත් ආර්ථිකයක ඉම වෙලෙදී පොදු තත්ත්වය සාරාංශයකට දැක්වේ.

වර්ෂය	වැඩසටහන වශයේ ජනගහනය (මිලියන)	සේවා නියුක්ත ජනගහනය (මිලියන)	සේවා විද්‍යුත් ජනගහනය (මිලියන)
2018	50	24	6
2020	60	32	8

මෙම සොරතුරුවලට අනුව පහත සඳහන් කවර ප්‍රකාශයක් නිවැරදි වේ ද?

- (1) 2018 සිට 2020 දක්වා සේවා විද්‍යුත් අනුපාතිකය ඉහළ ගොස් ඇත.
- (2) 2018 සිට 2020 දක්වා සේවා විද්‍යුත් අනුපාතිකය පහළ වැටී ඇත.
- (3) 2018 සිට 2020 දක්වා ඉම නමුදු සහභාගිත්ව අනුපාතිකය 60% සිට 67%ක් දක්වා වැඩි වී තිබේ.
- (4) 2018 සිට 2020 දක්වා ඉම නමුදු සහභාගිත්ව අනුපාතිකය පහළ වැටී ඇත.
- (5) 2018 සිට 2020 දක්වා ජනගහනය වර්ධනය වී ඇති නමුදු ඉම නමුදු නොවෙනස්ව පැවතී ඇත.

49. රටවල් පිළිබඳ ආර්ථික වර්ගීකරණයට අනුව, ලෝක බැංකුව විසින් ශ්‍රී ලංකාව ඉහළ මැදි ආදායම් රටක තත්ත්වයට පත් කරනු ලැබුවේ කවර වර්ෂයේ දී ද?

- (1) 2016                      (2) 2017                      (3) 2018                      (4) 2019                      (5) 2020

50. වර්තමානයේ ශ්‍රී ලංකාවේ අතිශයින් පාඩු ලබන රාජ්‍ය වංචකයන් තුන වනුයේ,

- (1) ලංකා විදුලිබල මණ්ඩලය, ජාතික ලොකයයි මණ්ඩලය සහ රාජ්‍ය ඉංජිනේරු සංස්ථාවයි.
- (2) සීමාසහිත ශ්‍රී ලන්කන් ගුවන් සමාගම, ලංකා විදුලිබල මණ්ඩලය සහ ලංකා බැංකු හෙල් සංස්ථාවයි.
- (3) සීමාසහිත ශ්‍රී ලන්කන් ගුවන් සමාගම, ශ්‍රී ලංකා වරාය අධිකාරිය සහ සීමාසහිත ලංකා සනොසයි.
- (4) ලංකා විදුලිබල මණ්ඩලය, ශ්‍රී ලංකා රක්ෂණ සංස්ථාව සහ රාජ්‍ය මාසට සංස්ථාවයි.
- (5) ශ්‍රී ලංකා ගමනාගමන මණ්ඩලය, ජාතික ඉතිරි කිරීමේ බැංකුව සහ සීමාසහිත ලංකා සීනි සමාගමයි.

\*\*\*

2022/2/7/17:



අධ්‍යයන පොදු සහතික පත්‍ර (උසස් පෙළ) විභාගය, 2021(2022)  
 கல்விப் பொதுத் தராதரப் பத்திர (உயர் தர)ப் பரீட்சை, 2021(2022)  
 General Certificate of Education (Adv. Level) Examination, 2021(2022)

ආර්ථික විද්‍යාව II  
 பொருளியல் II  
 Economics II

21 S II

පැය තුනයි  
 மூன்று மணித்தியாலம்  
 Three hours

අමතර සියවිම් කාලය - මිනිත්තු 10 යි  
 மேலதிக வாசிப்பு நேரம் - 10 நிமிடங்கள்  
 Additional Reading Time - 10 minutes

අමතර සියවිම් කාලය පුස්තක කියවා පුස්තක තෝරා ගැනීමටත් පිළිතුරු ලිවීමේදී ප්‍රමුඛත්වය දෙස පුස්තක සංවිධානය කර ගැනීමටත් යොදාගන්න.

උපදෙස් :  
 \* 'අ' උප කොටසෙන් අවම වශයෙන් පුස්තක දෙකක් ද, 'ආ' උප කොටසෙන් අවම වශයෙන් පුස්තක දෙකක් ද තෝරාගෙන, පුස්තක පහතට පමණක් පිළිතුරු සපයන්න.  
 \* පුස්තකාර කඩදාසි සපයනු ලැබේ.

'අ' උප කොටස

(මෙම කොටසෙන් අවම වශයෙන් පුස්තක දෙකක් තෝරා ගන්න.)

1. (i) නිෂ්පාදන සාධකයක් වශයෙන් 'හුමිනෙයි' ආර්ථික ලක්ෂණ දෙකක් සඳහන් කරන්න. (ලකුණු 04යි)
  - (ii) "නාගරයක් ආසන්නයේ පිහිටි අක්කර 500ක ඉඩමක් එද ව යාමේ කර්මාන්තයට ලක්ව ඇති සත්ත්ව විශේෂ රාශියකගේ නිවාස ස්ථානයක් වන බැවින්, එය ස්වභාවික තත්ත්වයෙන්ම රැකගත යුතු යැයි පරිසර අධිකාරිය අදහස් කරයි. නාගරික සංවර්ධන අධිකාරිය එම ඉඩමෙහි නාගරික නිවාස සංකීර්ණයක් ඉදිකිරීමට සැලසුම් කර ඇත."  
 මෙම සිද්ධිය හා සම්බන්ධ හිඟතම, තේරුම සහ ආවර්ධන පිරිවැය පිළිබඳ මූලිකාංග හඳුනාගෙන පැහැදිලි කරන්න. (ලකුණු 02 x 3 = 06යි)
  - (iii) නිෂ්පාදන හැකියා වක්‍රයක් සෑහ බැවුමක් සහිත වන්නේ සහ පිටතට තෝරා යන්නේ ඇයි? (ලකුණු 04යි)
  - (iv) (a) මිශ්‍ර ආර්ථික ක්‍රමය නිර්වචනය කරන්න. (ලකුණු 02යි)  
 (b) 'ශ්‍රී ලංකාව මිශ්‍ර ආර්ථිකයක් වේ' යන අදහස තහවුරු කෙරෙන ආර්ථික ක්‍රියාකාරකම් සඳහා නිදසුන් හතරක් සපයන්න. (ලකුණු 04යි)
2. (i) ඉල්ලුම් නීතියට පටහැනි වියහැකි අවස්ථා දෙකක් සඳහන් කරන්න. (ලකුණු 04යි)
  - (ii) පෙට්‍රොල් ලීටරයක් රු. 140ක් වන විට ලීටර් 22ක් මිලට ගන්නා සාපිභෝගිකයෙක් ලීටරයක මිල රු. 160කට ඉහළ ගිය විට ලීටර් 18ක් මිල දී ගන්නා බව සලකන්න. මෙම සාපිභෝගිකයාගේ ඉල්ලුමේ මිල නම්‍යතාව ගණනය කරන්න. (ලකුණු 04යි)
  - (iii) අනෙකුත් කරුණු නොවෙනස් ව තිබිය දී, බාල භාණ්ඩයක මිල පහළ වැටේ නම් එම භාණ්ඩයෙන් ඉල්ලුම් කරනු ලබන ප්‍රමාණය අඩුවේ ද? වැඩි වේ ද? ආදේශන සහ ආදායම් ප්‍රතිච්චාන කෙරෙහි අවධානය යොමු කරමින් පිළිතුරු පැහැදිලි කරන්න. (ලකුණු 06යි)
  - (iv) සැපයුම් වක්‍රය විකැන් කිරීමට හේතුවන සාධක දෙකක් රූපසටහන් ආධාර කරගනිමින් පැහැදිලි කරන්න. (ලකුණු 06යි)



3. (i) පාරිභෝගික අභිවික්තය සහ නිෂ්පාදන අභිවික්තය නිර්වචනය කරන්න. (ලකුණු 040)
- (ii) උපරිම මිලක් නිසා ප්‍රබසාධනය අභිවික්තය (deadweight loss) නමින් හඳුන්වනු ලබන්නේ කෙසේ දැයි රූපසටහනක් ඇඳීමෙන් පැහැදිලි කරන්න. (ලකුණු 040)
- (iii) රජය විසින් රු. 100ක මිල ආධාරකයක් ලබා දී ඇති අතර අභිවික්ත සැලසුම් ආධාරක මිල යටතේ රජය විසින් මිල දී ගන්නා බවත් සලකන්න. වෙළෙඳපොළ ඉල්ලුම් හා සැලසුම් සමීකරණ පහත දැක්වේ.
- ඉල්ලුම:  $Q_D = 240 - 2P$       සැලසුම:  $Q_S = -210 + 3P$
- (a) මෙම මිල ආධාරක වැඩසටහන සඳහා රජයට දැරීමට සිදුවන පිරිවැය කොපමණ ද? (ලකුණු 040)
- (b) මිල ආධාරකයට පසුව පාරිභෝගික අභිවික්තය සහ නිෂ්පාදන අභිවික්තය කොතරම් ප්‍රමාණයක් වේ ද? (ලකුණු 040)
- (c) මිල ආධාරකය නිසා අභිවි වන ප්‍රබසාධනය ගණනය කරන්න. (ලකුණු 040)

4. (i) 'ප්‍රාමාණික ලාභය' යන සංකල්පය නිර්වචනය කරන්න. (ලකුණු 020)
- (ii) පහත දැක්වෙන වියදම් ස්ථාවර පිරිවැය සහ විචලන පිරිවැය වශයෙන් වර්ගීකරණය කරන්න.
- (a) අමුද්‍රව්‍ය
- (b) කර්මාන්තශාලා ගොඩනැගිලි සඳහා බදු කුලිය
- (c) ලබාගත් ණය මුදල් සඳහා පොලී
- (d) පොහොර (ලකුණු  $01 \times 4 = 040$ )
- (iii) ඒකාධිකාරය සමග පූර්ණ තරගකාරී වෙළෙඳපොළ ව්‍යුහය සංසන්දනය කරන්න. (ලකුණු 040)
- (iv) "ආයතන තෙටු කාලයේ දී තාඩු ලබමින් වුව ද කර්මාන්තය තුළ රැඳී සිටීමට පිළිවන." මෙම ප්‍රකාශය පැහැදිලි කරන්න. (ලකුණු 040)
- (v) "මසකට රු. 200 000ක වැටුපක් ලබමින් සිටි සරිගණක මාදුකාංග ඉංජිනේරුවරියක, වෘත්තීයව ජීවත් වීමට තීරණය කොට, කම්පනේ මාදුකාංග සංවර්ධන ආයතනයක් ආරම්භ කරමින්, වෘත්තීයව වූ අතර, ඇය එම ආයතනයෙන් මසකට රු. 500 000ක් උපයයි."
- (a) මෙම වෘත්තීයවෘත් සංක්‍රම ඉපයීම් කොපමණ ද? (ලකුණු 030)
- (b) මෙම වෘත්තීයවෘත් ආරම්භ බදු කුලියක් උපයන්නේ ද? එබැවින් පිළිතුර පැහැදිලි කරන්න. (ලකුණු 030)

5. (i) පහත දැක්වෙන ඒකක, ජාතික ආදායම් ගිණුම්කරණයේ දී කවර ආයතනික අංශවලට අයත්වේ දැයි සඳහන් කරන්න.
- (a) ධීවර කර්මාන්තයේ සමුපකාර සමිතිය
- (b) දකුණු පළාත් සභාව
- (c) ජාතික වාණිජ මණ්ඩලය
- (d) ශ්‍රී ලංකා රක්ෂණ සංස්ථාව. (ලකුණු  $01 \times 4 = 040$ )
- (ii) කිසියම් විවෘත ආර්ථිකයක් සඳහා පහත සඳහන් සාර්ව ආර්ථික දත්ත සැලකිල්ලට ගන්න.
- දළ දේශීය නිෂ්පාදිතය (Y) = 500
- පරිභෝජනය (C) = 350
- බදු - සංක්‍රාම (බදු බැර) = 20
- ආයෝජනය (I) = 150
- අයවැය මිලය = 120 (සියලුම අගයන් රුපියල් බිලියනවලින්)
- මෙම ආර්ථිකයේ බුද්ධ අපනයන අගය කොපමණ වේ ද? (ලකුණු 040)



(iii) කළමනාකරණ ආර්ථිකයක සම්බන්ධතා ආදායම් රූ, බිලියන 800ක් ද, ආන්තික පරිභෝජන නැඟියා (MPC) 0.8ක් ද, විනව නිමැවුම් මට්ටම රූ, බිලියන 1 000ක් ද වේ යැයි සලකන්න.

(a) මෙම ආර්ථිකය මුහුණ දෙමින් සිටිනුයේ ප්‍රතිනිෂ්පාදන පරතරයකට ද නැතහොත් දැඩිනිෂ්පාදන පරතරයකට ද? එම පරතරයේ ප්‍රමාණය කොපමණ ද? (ලකුණු 02යි)

(b) රජය විසින් සාප්පු බදු පොදාගනිමින් මෙම පරතරය ඉවත් කිරීමට අදහස් කරන්නේ නම්, සාප්පු බදු කොතරම් ප්‍රමාණයකින් වෙනස් කිරීමට අවශ්‍ය වන්නේ ද? (ලකුණු 02යි)

(iv) රටක ජාතික ගිණුම්වලට අදාළ දත්ත කිහිපයක් පහත වගුවෙහි දැක්වේ.

අයිතමය	වටිනාම (රු. බිලියන)
මූලික මිල යටතේ දළ ජනතා කළ අගය	11 500
අවශේෂ ලෝකයෙන් ලැබුණු ශුද්ධ ප්‍රාථමික ආදායම	- 300
නිෂ්පාදිත මහ සහනාධාර අඩු කළ බදු	800
පරිභෝජන වියදම	8 500
අවශේෂ ලෝකයෙන් ලැබුණු ශුද්ධ වර්තන සංක්‍රාම	900

ඉහත දත්ත පදනම් කරගනිමින් පහත සඳහන් දෑ ගණනය කරන්න.

- (a) දළ දේශීය නිෂ්පාදිතය
  - (b) දළ ජාතික ආදායම
  - (c) වැය කළ හැකි දළ ජාතික ආදායම
  - (d) දේශීය ඉතුරුම්
- (ලකුණු 02 x 4 = 08යි)

**ආ උප කොටස**

(මෙම කොටසෙන් අවම වශයෙන් ප්‍රශ්න දෙකක් තෝරා ගන්න.)

- 6. (i) මුදලේ ප්‍රධාන කාර්යයන් කවරේ ද? (ලකුණු 04යි)
- (ii) බැංකු පද්ධතියේ මුදල් මැලීමේ විභවතාව කෙරෙහි බල පෑ හැකි සාධක මොනවා ද? (ලකුණු 04යි)
- (iii) පරස්පර අරමුණු දෙකක් ලකුණු දෙකට දී වාණිජ බැංකුවක් තම වත්කම් ව්‍යුහය කළමනාකරණය කරන්නේ කෙසේ ද? (ලකුණු 06යි)
- (iv) කොවිඩ් - 19 වසංගතය නිසා කුමක් හා ව්‍යාපාර ආයතන මුහුණ පා සිටින මූල්‍ය අසහනය විසඳීම සඳහා ශ්‍රී ලංකා මහ බැංකුව අනුගමනය කළ මූල්‍ය ප්‍රතිපත්තියේ ප්‍රධාන ලක්ෂණ කවරේ ද? (ලකුණු 06යි)

- 7. (i) වෙළෙඳපොළ ආර්ථිකයක ඇතැම් භාණ්ඩ හා සේවා අධි පරිභෝජනයක් සහ ඇතැම් ඒවා උන පරිභෝජනයක් සිදුවන්නේ ඇයි? (ලකුණු 04යි)
- (ii) ශුද්ධ පොද්ගලික භාණ්ඩ හා ශුද්ධ පොදු භාණ්ඩ අතර ඇති ප්‍රධාන වෙනස්කම් කැටිකොට දක්වන්න. (ලකුණු 04යි)

~~සෑ~~ පොද්ගලිකරණයට පත්වේ නම් ~~දෙකක්~~ සහ පොද්ගලිකරණයට විපක්ෂව නම් ~~දෙකක්~~ සඳහන් කරන්න. (ලකුණු 04යි)

~~සෑ~~ අයවැය නියෝග පුළුල්වීමේ ආර්ථික ප්‍රතිඵලය පැහැදිලි කරන්න. (ලකුණු 08යි)



8. (i) සමාන සම්පත් ප්‍රමාණයකින් A නමැති රටට මෝටර් රථ 40ක් හෝ ආහාර වොන් 40ක් හෝ නිපදවිය හැකි බවත් B නමැති රටට මෝටර් රථ 60ක් හෝ ආහාර වොන් 30ක් හෝ නිපදවිය හැකි බවත් සලකන්න.
- (a) විශේෂ ප්‍රාගුණිකයක් නොමැති විට එක් එක් රටෙහි අභ්‍යන්තර හුවමාරු අනුපාතිකය කවරක් ද? (ලකුණු 02යි)
- (b) ඉහත භාණ්ඩ නිෂ්පාදනය කිරීමෙහි ලා.මෙම රටවල සාපේක්ෂ වාසි දක්නට ලැබේ ද? පිළිතුර පැහැදිලි කරන්න. (ලකුණු 04යි)
- ~~(ii)~~ ගෙවුම් ශේෂ ලේඛනයක ඉදිරි අවකාශය සහ ජංගම හිඟුමේ ශේෂය අතර වෙනස කවරක් ද? (ලකුණු 04යි)
- (iii) විදේශ විනිමය වෙළෙඳපොළෙහි ඉල්ලුම් හා සැපයුම් වක්‍ර වින්දනවිමඵ බලපාන ප්‍රධාන සාධක ගණයන් සඳහන් කරන්න. (ලකුණු 04යි)
- ~~(iv)~~ පහත දැක්වෙන විනිමය අනුපාතික ක්‍රම යටතේ මහ බැංකුවේ කාර්යභාරය කුමක් ද?
- (a) ස්ථාවර විනිමය අනුපාතික ක්‍රමය (ලකුණු 03යි)
- (b) පාලිත නමය විනිමය අනුපාතික ක්‍රමය (ලකුණු 03යි)
9. (i) ආර්ථික වෘද්ධිය යනු කුමක් ද? ආර්ථික වෘද්ධි අනුපාතිකයෙන් එය වෙනස් වන්නේ කෙසේ ද? (ලකුණු 04යි)
- (ii) "සංවර්ධනය වූ කලී බහුමාන ක්‍රියාවලියකි." පැහැදිලි කරන්න. (ලකුණු 04යි)
- (iii) වර්තමාන ශ්‍රී ලංකාවේ සේවා නියුක්තියේ ආංශික සංයුතිය (කෘෂිකර්මය, කර්මාන්ත හා සේවා), දළ දේශීය නිෂ්පාදිතයේ ආංශික සංයුතිය සමඟ සසඳන්න. (ලකුණු 06යි)
- (iv) ආයෝජකයන්ට මහලෙන්නවන පහත දැක්වෙන ප්‍රධාන දර්ශකයන්ට අනුව ශ්‍රී ලංකාවේ වර්තමාන තත්ත්වය කුමක් ද?
- (a) ව්‍යාපාර කරගෙන යාමේ පහසුඵ පිළිබඳ දර්ශකය (Ease of Doing Business Index) (ලකුණු 02යි)
- (b) ගෝලීය තරගකාරීත්ව දර්ශකය (Global Competitiveness Index) (ලකුණු 02යි)
- (c) දූෂණ සංජානන දර්ශකය (Corruption Perception Index) (ලකුණු 02යි)
10. (i) ව්‍යවහාර මුදල් හුවමාරු ගිවිසුමක් (currency swap agreement) යනු කවරක් ද? ශ්‍රී ලංකාව ඇසුරෙන් නිදසුනක් දක්වන්න. (ලකුණු 04යි)
- (ii) ආයෝජන විශ්වාසනීයත්වයට සහ තරගකාරීත්වයට බාධා කෙරෙන ශ්‍රී ලංකා ආර්ථිකයේ ප්‍රධාන හැටලුකාරී ක්ෂේත්‍ර සඳහන් කරන්න. (ලකුණු 04යි)
- (iii) ශ්‍රී ලංකා ආර්ථිකය වර්තමානයේ මුහුණ පා සිටින විදේශ විනිමය අර්බුදය විසඳා ගැනීම සඳහා ඔබට යෝජනා කළහැකි ප්‍රතිපත්ති නිර්දේශ කවරේද? (ලකුණු 04යි)
- (iv) මෑත වර්ෂවල ආර්ථික වෘද්ධි අනුපාතිකය, අයවැය හිඟය, වෙළෙඳ හිඟය සහ රාජ්‍ය ණය යන ක්ෂේත්‍රයන්හි ශ්‍රී ලංකා ආර්ථිකය පෙන්නුම් කළ කාර්යක්ෂමතාව යෝග්‍ය දත්ත යොදාගනිමින් සැකෙවින් විස්තර කරන්න. (ලකුණු 08යි)